

共立女子第二中学校

2020年度

入学試験問題（1回AM）

【 社 会 】

試験時間 理科と合計で60分

【 注 意 】

- 1 試験開始の合図があるまで、中を見てはいけません。
- 2 問題は1～3で、全部で8ページです。試験中によごれや不足しているページに気づいた場合は、手をあげて監督かんとくの先生を呼んでください。
- 3 解答はすべて解答用紙にはっきりと記入し、解答用紙だけを提出してください。

1. 次の文章を読んで、以下の問いに答えなさい。

昨年（2019年）4月、①日本政府は2024年に一万円、五千円、千円の②お札（紙幣）のデザインを新しくすると発表しました。

20年ぶりのことで、新たな顔となる肖像画は、一万円札が「日本の③資本主義の父」と呼ばれる〔④〕に、五千円札が、「日本で初めての⑤女性留学生」として知られる津田梅子に、千円札が現在の〔⑥〕から「日本近代医学の父」と呼ばれる北里柴三郎に変わります。なお、お札のデザインを定期的に変えるのは、〔⑦〕を防ぐためといわれています。

問1 ①日本では、昨年（2019年）10月から消費税の税率が10パーセントに引き上げられましたが、1989年に初めて消費税が導入されたときの税率は何パーセントでしたか、数字で答えなさい。

問2 ②お札（紙幣）について、

- (1) 日本のお札（紙幣）は、正式には「日本〇〇券」といいます。「〇〇」にあてはまる語句を答えなさい。
- (2) 日本のお札（紙幣）の肖像画を最終的に決定するのは誰ですか、正しいものを、次のア)～エ) から1つ選び、記号で答えなさい。

ア) 財務大臣 イ) 防衛大臣 ウ) 法務大臣 エ) 国土交通大臣

問3 ③資本主義について、中華人民共和国（中国）は社会主義の国ですが、資本主義の体制が認められている場所があります。その中で、昨年（2019年）6月、逃亡犯条例改正をきっかけに反政府デモが大規模化したところはどこですか、正しいものを、次のア)～エ) から1つ選び、記号で答えなさい。

ア) 台湾 イ) 北京 ウ) 香港 エ) 上海

問4 文章中の〔④〕にあてはまる人物として正しいものを、次のア)～エ) から1つ選び、記号で答えなさい。

ア) 福沢諭吉 イ) 渋沢栄一 ウ) 田中正造 エ) 新渡戸稲造

問5 ⑤女性が、日本で初めて選挙権を得たのは西暦^{せいれき}何年のことですか、数字で答えなさい。

問6 文章中の〔 ⑥ 〕にあてはまる人物を答えなさい。

問7 文章中の〔 ⑦ 〕にあてはまる語句を答えなさい。

2. 先生と2人の生徒の会話文を読んで、以下の問いに答えなさい。なお、資料1、資料2は4ページに、**日本地図**は6ページにあります。

先生：資料1は、外国人に人気のある観光地をまとめた表です。伏見稲荷大社は昨年に続いて1位でした。何か気がついたことはありますか。

令子：私は家族で①奈良県の東大寺には行ったことがありますが、なぜ外国人に人気があるのかわからない場所もあります。

和子：私はニュージーランドからのホームステイで来日した中学生と一緒に長谷寺のある鎌倉に行きました。鎌倉も5位の箱根も〔 ② 〕県ですが、彼女たちは往復の車窓から富士山が見えた時は感激していました。

先生：15位までにはいった観光地の所在地を**日本地図**に●で示してあります。また、人気の観光地は京都や奈良に多いことから外国人が興味を持っているものも想像ができますね。

令子：人気のある観光地は〔 ③ 〕。

先生：ところで、外国人観光客はどのような地域から、どの時期に多く来ているのか気にしたことがありますか？「日本政府観光局」の発表をもとにした資料2を見てみましょう。

和子：〔 ④ 〕

令子：日本には四季があるので、それぞれの季節の良さを感じてもらいたいです。

和子：最近「ゲリラ豪雨」などの大雨も増え、これまで経験したことがないような被害も発生し、「気候が昔とだいぶ違う」と祖母が言っています。

先生：3位の宮島は〔 ⑤ 〕に浮かぶ島で厳島神社が有名ですね。ここは2004年の台風18号で神社の回廊なども浸水して大きなニュースになりましたが、その後も海面の上昇による被害がたびたび起こり、地球温暖化の影響といわれているのですよ。

令子：昨年秋の台風や大雨による⑥河川の氾濫のニュースには心が痛みました。

和子：〔 ⑤ 〕一帯は古くから水運が発達していたけど、最近では海上交通の便の良さを生かした埋立地で重化学工業が盛んだと習いました。そもそも埋め立てと干拓はどう違うのですか。

先生：埋め立ては土砂などを入れて陸地を造るもので、干拓は遠浅の海や水深の浅い湖などで仕切りを作って水を抜き陸地にすることをいいます。大潟村や⑦諫早湾が有名で農地としての利用を目的とすることが多いのですよ。

和子：同じように陸地が増えていますが、造られ方や利用のされ方が違うのですね。

資料1 外国人に人気の観光地

	観光地	所在地		観光地	所在地
1	伏見稲荷大社	京都府	11	兼六園	石川県
2	広島平和記念公園	広島県	12	成田山新勝寺	千葉県
3	宮島	広島県	13	長谷寺	[②] 県
4	東大寺	奈良県	14	奈良公園	奈良県
5	箱根	[②] 県	15	日光東照宮	栃木県
6	新宿御苑	東京都			
7	三十三間堂	京都府			
8	高野山奥之院	和歌山県			
9	姫路城	兵庫県			
10	金閣寺	京都府			

(「トリップアドバイザー」2019年発表分より作成)

資料2 2018年訪日外国人数

単位：万人

地域	1月	2月	3月	4月	5月	6月	7月	8月	9月	10月	11月	12月
総数	250	250	260	290	267	270	283	257	215	264	245	263
アジア	220	224	217	243	228	234	243	225	187	219	209	228
ヨーロッパ	8.8	9.5	17	20	15	12	16	15	13	19	13	10
アフリカ	0.2	0.2	0.3	0.3	0.2	0.2	0.3	0.3	0.3	0.4	0.3	0.3
北アメリカ	11.7	10.6	19.5	18.7	17.8	19.2	18.4	13.3	13.4	18.6	16.1	19.3
南アメリカ	0.8	0.7	1.1	1.1	0.9	0.6	0.9	0.6	0.8	1.0	0.7	0.7
オセアニア	7.7	5.0	5.3	6.5	4.5	4.1	3.9	2.8	5.6	5.5	4.5	7.1

(日本政府観光局発表資料より作成)

問1 ①奈良県の説明としてまちがっているものを、次のア)～エ)から1つ選び、記号で答えなさい。

- ア) 大阪や京都のベッドタウンとなっている。
- イ) 県の南部の吉野地方は森林地帯となっていて林業が盛んである。
- ウ) 能登半島の中部に位置している。
- エ) 県内の法隆寺は世界遺産に登録されている。

問2 文章中の [②] にあてはまる県名を答えなさい。

問3 文章中の〔 ③ 〕にはどのような文を入れたらよいと思いますか。自分で考えて、**10字程度**で答えなさい。

問4 文章中の〔 ④ 〕にあてはまるものとして正しいものを、次のア)～エ)から1つ選び、記号で答えなさい。

ア) 北アメリカから訪日する人の割合が最も多いことがわかります。

イ) 一年のうちでは4月に訪日する人が多いです。

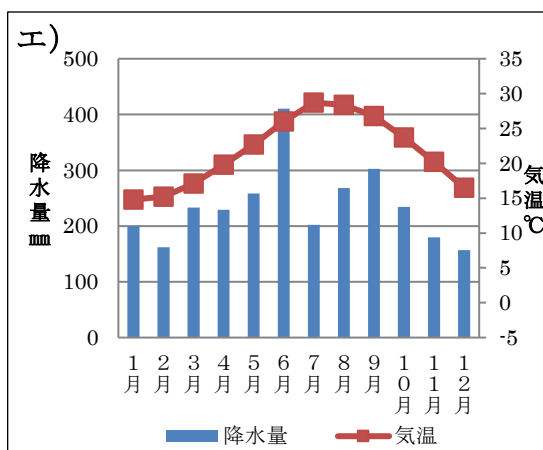
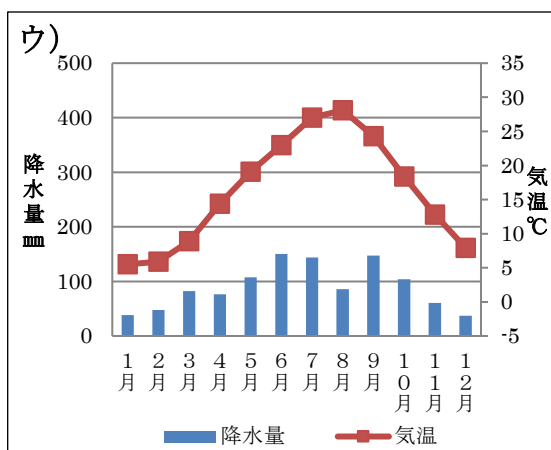
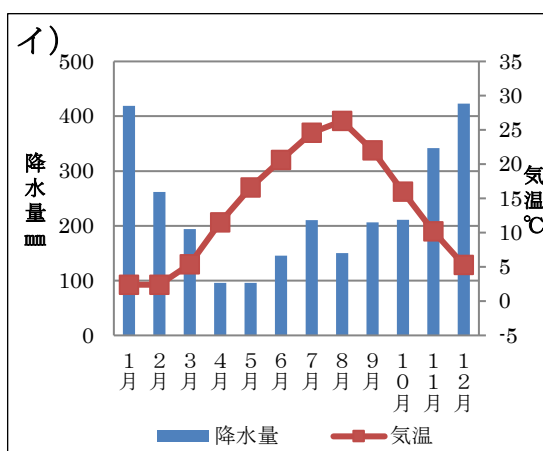
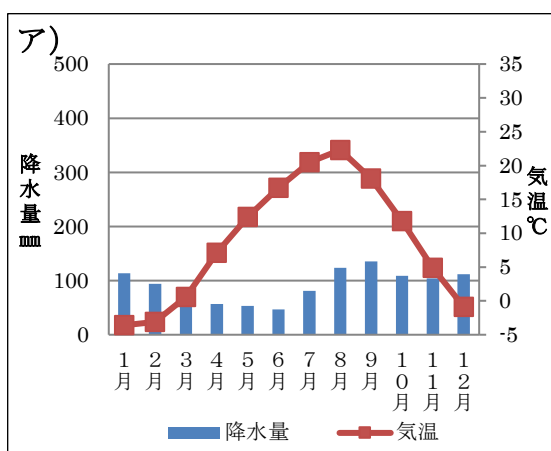
ウ) アジアからの訪日者は毎月200万人をこえています。

エ) オセアニアからの訪日者は全体の1割をこえています。

問5 文章中の〔 ⑤ 〕について、

(1) 〔 ⑤ 〕にあてはまる海の名を答えなさい。

(2) 〔 ⑤ 〕周辺の気候の特徴を示している雨温図として正しいものを、次のア)～エ)から1つ選び、記号で答えなさい。



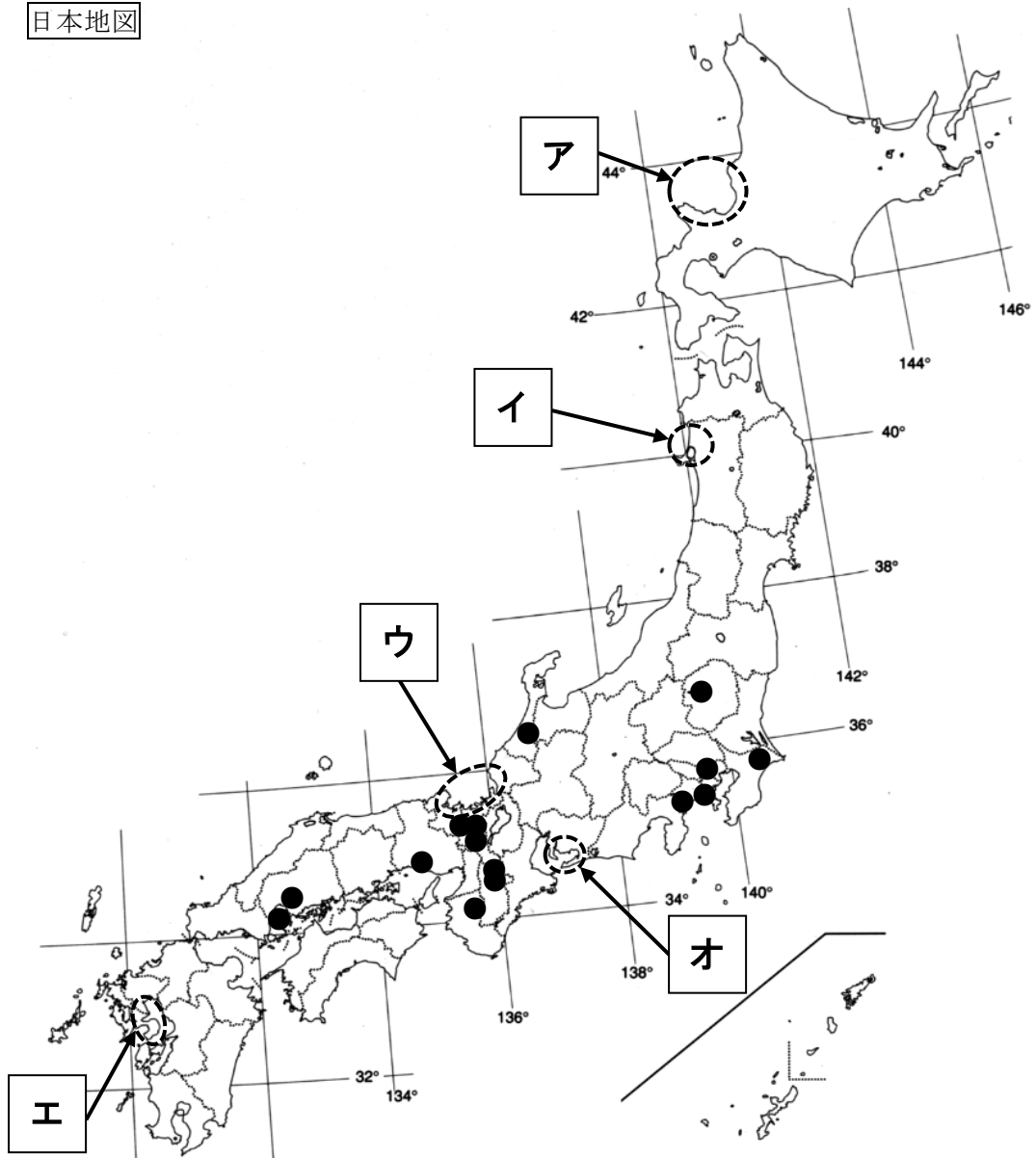
(『理科年表2019』より作成)

問6 ⑥河川やその流域などについて説明した文としてまちがっているものを、次のア)～エ)から1つ選び、記号で答えなさい。

- ア) 石狩川流域は泥炭地の改良が行われ、北海道を代表する稲作^{いなさく}地帯となった。
- イ) 諏訪湖を源流とした天竜川は、豊富な水量をいかした水力発電所が多い。
- ウ) 日本で最も長い利根川の河口近くにある霞ヶ浦ではウナギの養殖^{ようしよく}が盛んである。
- エ) 富山湾に注ぐ神通川流域では、高度成長期にカドミウムによるイタイイタイ病が発生した。

問7 ⑦諫早湾のある場所を日本地図の[ア]～[オ]から選び、記号で答えなさい。

日本地図



3. 先生と中学2年生の花子さんの会話文を読んで、以下の問いに答えなさい。

先生：昨年（2019年）の5月1日から、新しい元号である「令和」が始まりましたね。
花子：はい！奈良時代に作られた①『万葉集』の梅花の歌を参考にしたそうですね。
これまでも元号は何度も変わってきたのですか？
先生：そうだね。新しい「令和」は、645年に定められた最初の元号である「〔 ② 〕」
から数えて248番目の元号なのですよ。
花子：えっ？元号ってそんなに何度も変わってきたのですか？正直、「明治」より前の
元号になると、あまりよく知らないのですが…。
先生：確かに、中学校の歴史の範囲では限られたものしか出ていないとは思いますが、
例えば、③平治の乱の「平治」や、文永の役の④「文永」、⑤応仁の乱の
「応仁」などは、中学校の教科書にも出てくる元号ですよ。
花子：あっ、言われてみたらそうでした！ということは、承久の乱の「承久」や、⑥天
保の改革の「天保」、安政の大獄の「安政」なども元号ということですね？
先生：そう、その通り！
花子：あれ？でも先生、⑦「明治」以降は⑧「大正」・⑨「昭和」・「平成」・「令和」と
続きますが、昔よりも元号が変わる回数が少なくなっている気がします…。
先生：うん、それはですね、政府による明治の改元とともに“天皇1代で元号は1つの
み”と定められたからですよ。
花子：あっ！先週の歴史の授業でちょうど習ったところでしたね。花子、忘れていまし
た。よし、今日帰宅したら、しっかりと復習をしておきます！
先生：そうです花子さん、その意気ですよ！

問1 ①『万葉集』について、この歌集と同じ時代に作られた、各地の地名や産物などをまとめた地理書を何といいますか、答えなさい。

問2 文章中の〔 ② 〕にあてはまる言葉を答えなさい。

問3 ③平治の乱について、この戦乱に勝利して政治の実権を握った人物が、朝廷から与えられた最高位の官職を何といいますか、答えなさい。

問4 ④「文永」について、これは鎌倉時代の元号ですが、この時代に曹洞宗を開いた僧は誰ですか、次のア)～エ)から1つ選び、記号で答えなさい。

ア) 空海 イ) 親鸞 ウ) 行基 エ) 道元

問5 ⑤応仁の乱について、この戦乱は8代将軍の跡継ぎ問題から起きましたが、8代将軍とは誰ですか、答えなさい。

問6 ⑥天保の改革について、この改革を実施した人物は誰ですか、次のア)～エ)から1つ選び、記号で答えなさい。

ア) 水野忠邦 イ) 田沼意次 ウ) 大塩平八郎 エ) 松平定信

問7 ⑦「明治」について、この時代に起きたことに関する次の文(1)・(2)の内容正誤の組み合わせとして正しいものを、次のア)～エ)から1つ選び、記号で答えなさい。

- (1) 土地の所有者に地価の3%を納税させる地租改正が実施された。
- (2) 自由民権運動の中心であった板垣退助は、立憲改進黨を結成した。

ア) (1)正 (2)正 イ) (1)正 (2)誤
ウ) (1)誤 (2)正 エ) (1)誤 (2)誤

問8 ⑧「大正」について、この時代に起きたことに関する次の各文の下線部の内容が正しいものを、次のア)～エ)から1つ選び、記号で答えなさい。

- ア) 1915年、日本は朝鮮に対して二十一カ条の要求をつきつけた。
- イ) 1919年、中国の主要都市において三・一独立運動が起こった。
- ウ) 1920年、スイスのジュネーブに本部をおく国際連合が成立した。
- エ) 1925年、普通選挙法とともに治安維持法が制定された。

問9 ⑨「昭和」について、この時代に起きたことに関する次の各文の下線部の内容がまちがっているものを、次のア)～エ)から1つ選び、記号で答えなさい。

- ア) 1931年、日本の関東軍は柳条湖事件を起こして満州全土を占領した。
- イ) 1940年、日本はドイツ・スペインと軍事的な三国同盟を結んだ。
- ウ) 1951年、東アジアの平和を守る目的で日米安全保障条約が結ばれた。
- エ) 1972年、アメリカの統治下にあった沖縄が日本に返還された。