

共立女子第二中学校

平成29年度

入学試験問題（1回AM）

【 社 会 】

試験時間 理科と合計で60分

【 注 意 】

- 1 試験開始の合図があるまで、中を見てはいけません。
- 2 問題は1～3で、全部で7ページです。試験中に汚れや不足しているページに気づいた場合は、手をあげて監督かんとくの先生を呼んでください。
- 3 解答はすべて解答用紙にはっきりと記入し、解答用紙だけを提出してください。

1. 次の文章を読んで、以下の問いに答えなさい。

①イギリスにおいて、②欧州連合に残留するべきか、離脱するべきかを問う国民投票が、昨年（2016年）6月に行われました。投票の結果、〔 ③ 〕。
そもそも欧州連合は、過去の戦争によって大きな被害を受けた欧州の国々が、再び戦争を起こさないようにという思いからつくった共同体です。本部を④ブリュッセルに置き、ヒトやモノ、お金やサービスが自由に行き来する「ひとつの市場」の実現をめざして、貿易にかかる〔 ⑤ 〕をなくすなどしてきました。現在の加盟国は、イギリスを含めて〔 ⑥ 〕か国で、総人口は⑦約5億人、⑧域内総生産は世界の2割をこえます。

問1 ①イギリスの場所を、2ページの世界地図の〔あ〕～〔え〕から1つ選び、記号で答えなさい。

問2 ②欧州連合を、アルファベットであらわすとどのようになりますか、答えなさい。

問3 〔 ③ 〕にあてはまる文として正しいものを次のア)～エ)から1つ選び、記号で答えなさい。

- ア) 離脱支持が残留支持を上回り、欧州連合から離脱することが決まりました。
- イ) 残留支持が離脱支持を上回り、欧州連合に残留することが決まりました。
- ウ) 離脱支持と残留支持が接戦となり、もう一度、投票を行うことになりました。
- エ) 投票率が低すぎたため、もう一度、投票を行うことになりました。

問4 ④ブリュッセルは、どこの国の首都ですか、国名を答えなさい。

問5 〔 ⑤ 〕にあてはまる税金の種類として正しいものを次のア)～エ)から1つ選び、記号で答えなさい。

- ア) 相続税 イ) 所得税 ウ) 関税 エ) 住民税

問6 〔 ⑥ 〕にあてはまる数字として正しいものを次のア)～エ)から1つ選び、記号で答えなさい。

- ア) 6 イ) 15 ウ) 28 エ) 42

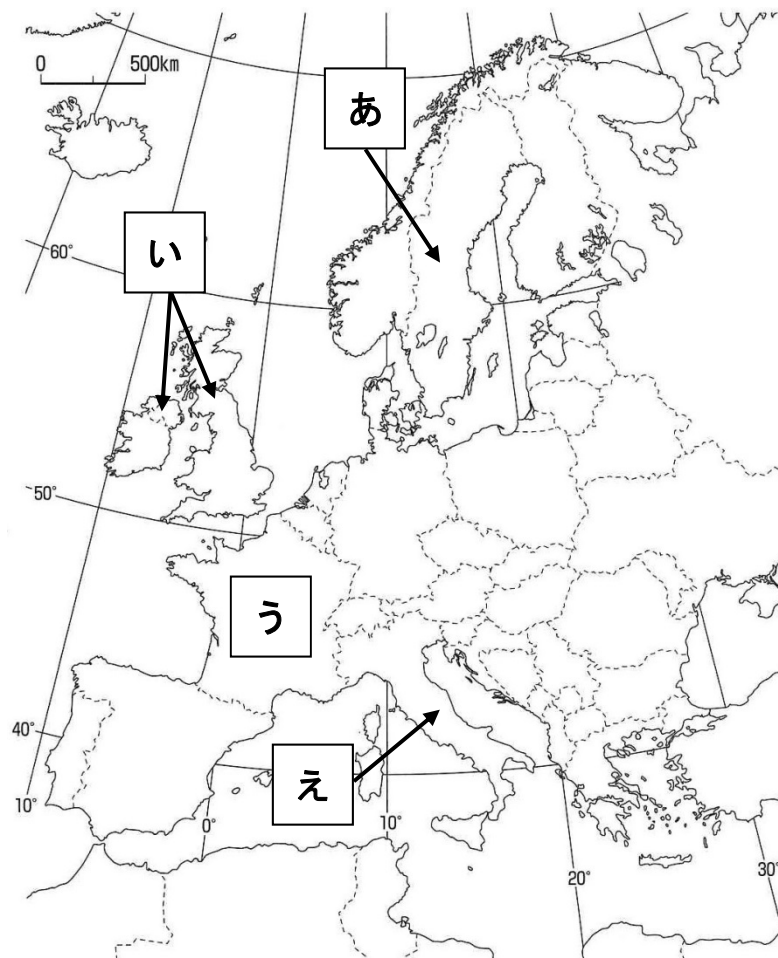
問7 ⑦約5億人とありますが、これは現在の日本の総人口の約何倍ですか、正しいものを次のア)～エ)から1つ選び、記号で答えなさい。

- ア) 約2倍 イ) 約4倍 ウ) 約6倍 エ) 約8倍

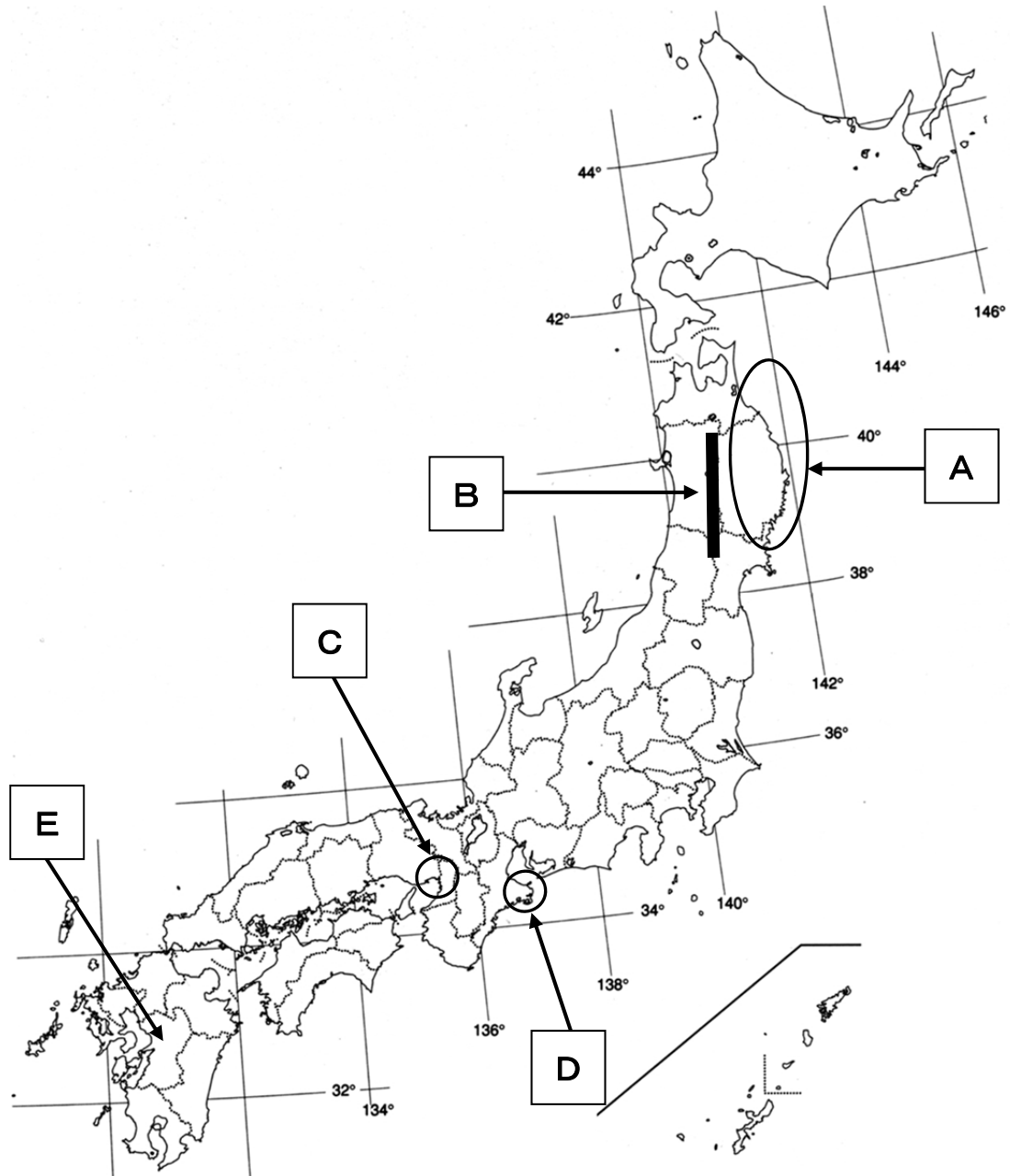
問8 ⑧域内総生産について、これは1つの国であれば、「国内総生産」となります。では、この「国内総生産」をアルファベットであらわすとどのようになりますか、次のア)～エ)から1つ選び、記号で答えなさい。

- ア) FTA イ) NGO ウ) GDP エ) WTO

世界地図



2. 次の日本地図を見て、以下の問いに答えなさい。



問1 [A]の付近では、初夏のころ、冷夏の原因になる冷たい北東の風が吹くことがあります。農業にも影響を及ぼすことがあるこの北東の風のことを何といいますか、答えなさい。

問2 [B]の山脈の名前を答えなさい。

問3 [C]の地域にある大阪から神戸にかけて広がる工業地帯の名前を答えなさい。

問4 昨年、**D**の地域で伊勢志摩サミットが開かれました。この地域にみられる全国的に有名な産業を次のア)～エ)から1つ選び、記号で答えなさい。

ア) 真珠の養殖 しんじゆ ようしよく イ) 原子力発電 ウ) ぶどうの栽培 きいばい エ) 造船

問5 昨年、**E**の県で強い地震が発生し、大きな被害がありました。**E**の県について述べたものとしてまちがっているものを次のア)～エ)から1つ選び、記号で答えなさい。

ア) 広大なカルデラをもつ阿蘇山があり、カルデラの中に多くの人々が暮らしている。
イ) 県の大部分にはシラス台地が広がり、その特徴をいかして稲作がさかんである。
ウ) 畳表の原料となるいぐさの栽培がさかんで、その生産量は日本で最も多い。
エ) かつて、化学工場の廃水に含まれていた有機水銀が原因で水俣病が発生した。

問6 次の文章はどここの県について述べたものですか、県名を答えなさい。

日本で最も面積が小さい県である。年間の降水量が少なく、昔からため池がたくさん作られていたことでも知られている。また、気候を利用して小麦が生産され、それを加工したうどんの消費量が多い県としても有名で、この県の旧国名と組み合わせた名称で全国に知られている。

問7 昨年、北海道新幹線が函館まで開業しました。東京から函館まで新幹線で移動した時、通過する県名としてまちがっているものを次の中から1県選び、答えなさい。

[青森県 秋田県 宮城県 福島県]

問8 北海道について述べたものとしてまちがっているものを次のア)～エ)から1つ選び、記号で答えなさい。

ア) 釧路湿原はラムサール条約に登録され、湿地とそこに住む水鳥を保護することにつとめている。
イ) 十勝平野は日本を代表する畑作地帯で、砂糖の原料になるてんさいは北海道が日本で最も生産量が多い。
ウ) 以前からパルプ・製紙工業がさかんな札幌市は掘り込み式の港が作られ、北海道最大の工業都市になっている。
エ) 石狩平野では泥炭地を水田に変えて稲作が行われ、北海道の米の生産量は全国の都道府県で1、2位を争っている。

3. 次の文章を読んで、以下の問いに答えなさい。

人類は何千年も前から時を計る方法を考えていました。紀元前 2000 年ころ、エジプトで日時計が作られ、他にも砂時計、火時計、水時計などが次々に発明されました。

日本では、671 年に天智天皇がはじめて (※) 漏刻をつくったと①日本書紀に記録されています。

16 世紀になると、②フランシスコ＝ザビエルが機械時計を持ち込んだり、③豊臣秀吉を訪ねたローマ法王の使節が「自鳴鐘」という時計を献上したり、徐々に機械仕掛けの時計が日本に入ってくるようになりました。現存しているものの中で最も古いものは、スペインから徳川家康に贈られた時計です。

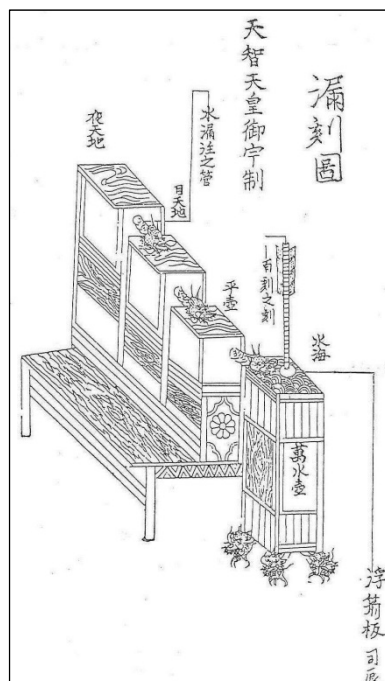
17 世紀のはじめには、宣教師が日本人に、時計やオルガン、天文機械などのしくみを教えました。④江戸時代の日本人はこの知識をもとにして時計をつくりました。

暦を欧米と同じ方法で表示するようになったのは、⑤明治 5 年に暦を現在の太陽暦に変えたときのことでした。この後、欧米の時計生産技術を導入し、⑥日本の工業化とともに「近代時計産業」が始まります。この時代、欧米では機械による大量生産が始まっていたようですが、日本では手作業でした。機械化が進んでいなかったことは確かですが、手工業でも欧米にひけをとらないものを作っていたということは、日本人の誇る器用さのあらわれでしょう。

やがて日本の工業も機械化していきますが、⑦太平洋戦争によって多くの工場が破壊され、技術の進歩は一時中断します。戦後、遅れを取り戻した機械時計は⑧1970 年代に精密機械として完成を遂げました。

現在では時計は電子技術と結びつき、精度を極めた電子時計の時代となっています。人間はわずかの狂いもない時計を生み出しましたが、人間の体に刻まれたリズムは、時を経ても変わらないでしょう。人類は今後、どのように「時」とつきあっていくのでしょうか。

(※) 漏刻…水時計の一種



桜井養仙『漏刻説』掲載の漏刻図より
(享保17年=1732年)

問1 ①日本書紀について、(1)・(2)の問いに答えなさい。

(1) この中に出てくる「改新の^{みことり}詔」で示されている、全国的な^{こせき}戸籍と計帳(調・^{よう}庸の課税台帳)をつくり、田を割り当てて耕作させる制度を何といいますか。解答欄にあてはまるように答えなさい。

(2) この書物の説明として正しいものを次のア)～エ)から1つ選び、記号で答えなさい。

ア) 武士の抗争のようすを通して、平家の^{えい}栄華と^{めつぼう}滅亡が^{びわ}琵琶法師によって語られている。

イ) 山上憶良がよんだもので、当時の貧しい農民の生活をうかがうことができる。

ウ) 中国の歴史書の^{えいきよう}影響を受け、日本のおこりや神話、伝承についてまとめられている。

エ) 皇族から農民、女性、^{さきもり}防人まで幅広い人々の和歌が集められている。

問2 ②フランシスコ＝ザビエルをはじめとして、この頃日本には多くのスペイン人やポルトガル人が来航していました。彼らとの貿易をあらわす言葉として正しいものを次のア)～エ)から1つ選び、記号で答えなさい。

ア) 勘合貿易 イ) 朱印船貿易 ウ) 南蛮貿易 エ) 出島貿易

問3 ③豊臣秀吉についての説明としてまちがっているものを次のア)～エ)から1つ選び、記号で答えなさい。

ア) 全国の土地を調査し、予想される^{しゅうかく}収穫量を米の体積である^{こくだか}石高で表した。

イ) 物資の流通を^{さまた}妨げる関所を^{はい}廃し、城下町の安土で^{はら}楽市・^{はら}楽座を実施した。

ウ) 刀狩令を出し、農民から武器を取り上げて^{へいのうぶんり}兵農分離を進めた。

エ) 日本全国を統一した後、朝鮮へ二度出兵した。

問4 ④江戸時代について、この時代の日本人は、字を読み書きできる人の割合（識字率）が世界で最も高かったと言われます。その識字率を支えたのは右の資料のような民間教育施設でした。江戸の庶民の教育をささえた、このような場の名称を答えなさい。



いっすんしはなさと
一寸子花里
ぶんがくばんだい
「文学万代の宝」より

問5 ⑤明治5年に暦を現在の太陽暦に変えたとありますが、変更される前は「太陰暦」という、1年を354日とする暦を使っていました。太陰暦は何を基準として作られていますか、答えなさい。

問6 ⑥日本の工業化にともなって起きた栃木県の足尾銅山鉍毒事件について、議会で責任を追及し、天皇への直訴も行った地元出身の衆議院議員の名前を答えなさい。

問7 ⑦太平洋戦争が始まったとき、日本に敵対していた国としてまちがっているものを次のア)～エ)から1つ選び、記号で答えなさい。

ア) ドイツ イ) アメリカ ウ) イギリス エ) 中国

問8 ⑧1970年代についての説明としてまちがっているものを次のア)～エ)から1つ選び、記号で答えなさい。

- ア) アメリカの占領下にあった沖縄が返還され、日本に復帰した。
- イ) 中東の産油国が石油価格を引き上げ、石油危機が起きた。
- ウ) 田中角栄首相が中国を訪問し、日中共同声明が出された。
- エ) 鳩山一郎首相がソ連を訪問し、日ソ共同宣言が出された。