

# 共立女子第二中学校

2026年度

## 入学試験問題（1回AM）

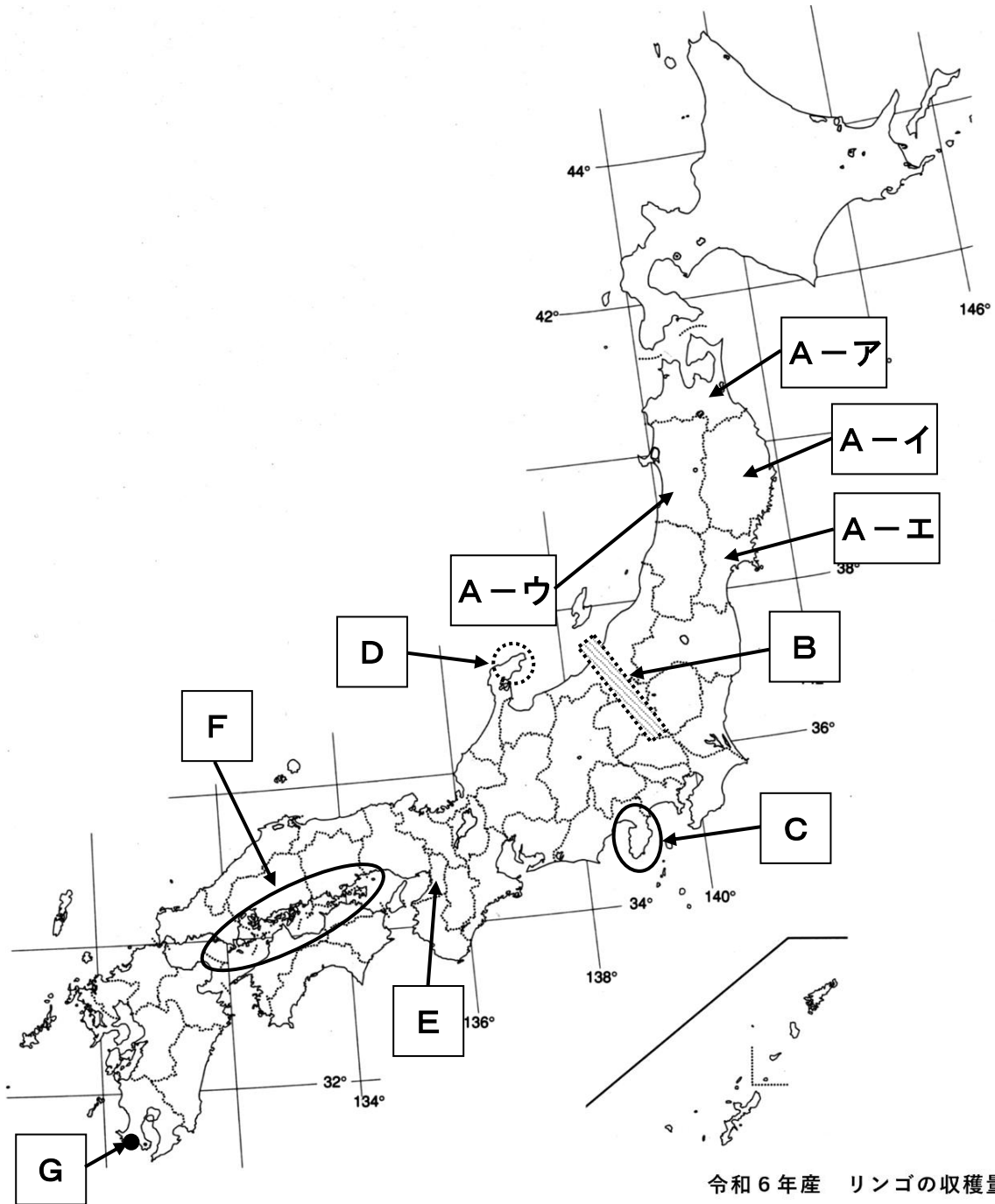
### 【 社 会 】

試験時間 理科と合計で60分

### 【 注 意 】

- 1 試験開始の合図があるまで、中を見てはいけません。
- 2 問題は1～3で、全部で9ページです。試験中によごれや不足しているページに気づいた場合は、手をあげて監督かんとくの先生を呼んでください。
- 3 解答はすべて解答用紙にはっきりと記入し、解答用紙だけを提出してください。

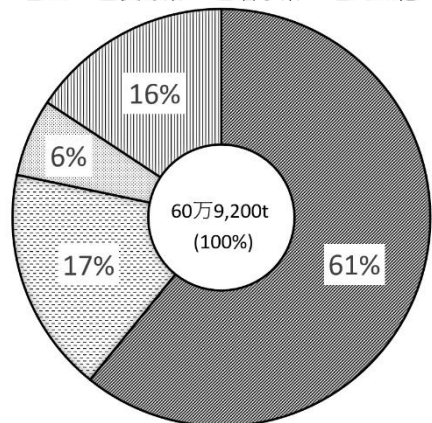
1. 次の日本地図を見て、以下の問いに答えなさい。



問1 地図中Aが指す4つ県の中で、リンゴの収穫量が日本一の県があります。右の資料「令和6年産 リンゴの収穫量」で61%を占める県はどこですか。地図中のア)～エ)から1つ選び、記号で答えなさい。

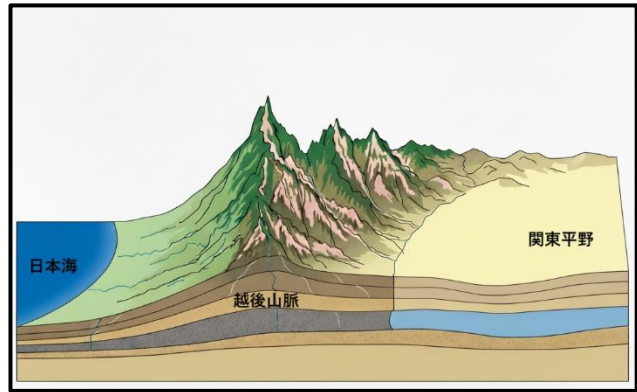
令和6年産 リンゴの収穫量

■ A ■長野県 ■岩手県 ■その他



出典：農林水産省データ  
（令和七年五月二十七日現在より作成）

問2 右の図は、地図中[B]の辺りの断面模式図です。この辺りの地域の気候についての説明文としてもっともふさわしいものを次のア)～エ)から1つ選び、記号で答えなさい。



- ア) 夏場に日本海側からあたたかく湿<sup>しめ</sup>った空気が入り、越後山脈をこえて関東平野に大雨をもたらす。
- イ) 夏場に日本海側からつめたく乾燥<sup>かんそう</sup>した空気が入り、越後山脈の手前では乾燥注意報が発令されることが多い。
- ウ) 冬場に日本海側から湿<sup>しめ</sup>った空気が入り、越後山脈の手前で多くの雪を降らせる。
- エ) 冬場に日本海側からあたたかい空気が入り、越後山脈の手前は温暖<sup>おんだん</sup>な気候となる。

問3 地図中[C]の半島名を漢字で答えなさい。

問4 地図中[D]の地方の伝統産業について説明した以下の文章の空らん<sup>らん</sup>に当てはまる語を答えなさい。

能登地方で作られている[ ]は、木で作った器などに「うるし」を何度も何度も塗<sup>ぬ</sup>り重ねて作られている、とてもじょうぶで美しい工芸品です。

問5 地図中[E]の都道府県に関連した文章として、もっともふさわしいものを次のア)～エ)から1つ選び、記号で答えなさい。

- ア) 江戸時代に集団参拝<sup>さんぱい</sup>がされたことで有名な伊勢神宮がある。
- イ) 国内線・国際線の飛行機が数多く発着する空の玄関口<sup>げんかん</sup>として中部国際空港（セントレア）がある。
- ウ) プロ野球球団の本拠地<sup>ほんきょち</sup>で高校野球の聖地としても知られる甲子園球場がある。
- エ) かつて「天下の台所」と呼ばれ、EXPO 2025が開催<sup>かいさい</sup>されたことで注目を集めた夢洲<sup>ゆめしま</sup>がある。

問6 地図中[F]の地域は、倉敷市水島地区の石油化学コンビナートや福山市の造船と鉄鋼のコンビナートが立地するなど、日本有数の工業地域です。この工業地域を何といいますか、漢字で答えなさい。

問7 地図中Gは枕崎市を指しています。次の枕崎市に関する資料と枕崎市に暮らす親子の会話文を読み、会話文中の空らん<sup>①</sup>に当てはまることばを考え、1～2行で答えなさい。なお、会話文および資料中の(あ)には、一般的な魚の呼び名が当てはまります。(あ)に当てはまることばも含めて答えること。

さくら：お父さん、(あ)の漁獲量<sup>ぎょかくりょう</sup>つて、枕崎よりも静岡県の焼津の方が多いんだって。このあいだ、社会の授業で勉強したの。知ってた？

まなぶ：ああ、実はそうなんだ。この辺りじゃ、※一本釣りがさかんでよく釣ってくるから、たくさん獲れていると思っていたんじゃないか？

さくら：そうなの。今は漁師を引退しているおじいちゃんや、お父さんがよく釣ってきていたし、夕ご飯のときにも(あ)のたたきやお刺身をよく食べていたから。たくさん獲れていると思っていたわ。

まなぶ：そうだな。一本釣りでもよく釣れるけれども、※巻き網漁<sup>あみ</sup>などの方が一度に多くの魚を獲れるから、漁獲量では劣ってしまうんだよ。

さくら：そうなんだ。でも、一本釣りだけで考えると日本でも有数の漁獲量なのも教わったわ。ところで、枕崎の漁業の今後がどうなるか、お父さんはどのように考えているの？

まなぶ：このままだと、枕崎港が「(あ)の一本釣り漁獲量が日本一をほこる港」って言えなくなっちゃうんじゃないかって…。なぜだか分かるかい？

さくら：おそらく、。

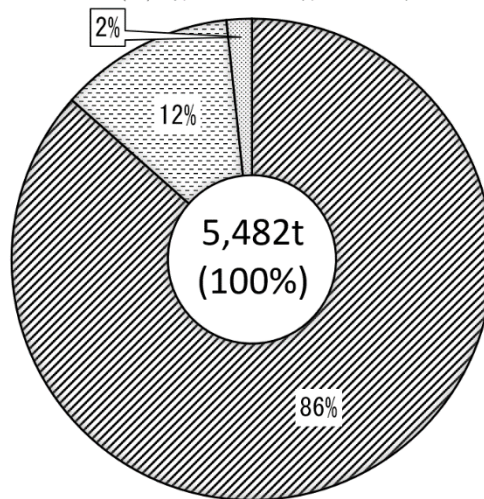
まなぶ：そうなんだよ。全国的に問題視されていて、枕崎だけの問題ではないんだが…。何かいい方法はないものだろうか…。

さくら：そうね…。すぐに思いつかないわ。ちょうど、学校で「枕崎市の今後を考える」というテーマで探究活動に入っていくから、そこで話題にしてみることにするね。

枕崎市における海面漁業の魚種別漁獲量

注) 漁獲量は平成30年海面漁業生産統計調査によるデータ

■(あ)類 ■まぐろ類 ■その他



出典：農林水産省 HP

～市町村の姿 グラフと統計でみる農林水産業～  
より作成 (令和7年10月16日現在)

※一本釣り…つりざおを使って、魚を一匹ずつ釣り上げる漁法のこと。

※巻き網漁…おおきな網で魚の群れを一度にまとめて獲る漁法のこと。

2. 次の文章を読んで、以下の問いに答えなさい。

日本では、国の政治を進める役割を立法・行政・司法に分けて、それぞれの仕事を①国会・内閣・②裁判所が分担して行っています。これは、一つの機関に権力が集まることを防ぐための工夫で、このようなしくみを〔 ③ 〕といいます。

裁判所では、争いごとや犯罪が起こったときに④憲法や法律にもとづいて、それらの問題を解決したり、罪のあるなしを決めたりする仕事を行っています。裁判の判決に納得できないときには、さらに上級の裁判所にうったえ、3回まで裁判を受けることができます。これを⑤三審制といいます。

2009年からは、重大な犯罪に関わる裁判において⑥裁判官だけでなく国民が裁判員として裁判に参加する⑦裁判員制度が始まりました。

問1 ①国会について、昨年（2025年）7月に参議院議員選挙が行われましたが、参議院議員の任期は何年ですか、算用数字で答えなさい。

問2 ②裁判所について、日本には設置されていない裁判所を次のア)～エ)から1つ選び、記号で答えなさい。

ア) 最高裁判所      イ) 簡易裁判所      ウ) 憲法裁判所      エ) 高等裁判所

問3 空らん〔 ③ 〕にあてはまる語句を答えなさい。

問4 ④憲法について、《資料1》は、日本国憲法を改正するための手続きについて説明しています。これを参考にして《資料2》の場合、日本国憲法を改正する発議を国会が行うことができるか、できないか判断しなさい。なお、そのように判断した理由を1～2行で答えなさい。

《資料1》

この憲法の改正は、各議院の総議員の3分の2以上の賛成で、国会が、これを発議し、国民に提案してその承認を経なければならない。この承認には、特別の国民投票において、その過半数の賛成を必要とする。

《資料2》※総議員数は、2025年7月現在のものです。

	衆議院	参議院
総議員数	465名	248名
出席者	450名	220名
賛成	330名	155名
反対	120名	65名

問5 ⑤三審制について説明している、以下の文章の空らんには当てはまることばを答えなさい。

より公正で慎重に裁判を行うことで[ ]を防ぎ、私たちの人権を守ろうというしくみです。

問6 ⑥裁判官が法廷<sup>ほうてい</sup>で着ている法服は何色ですか、答えなさい。



地方裁判所の法廷（出典：裁判所 HP より）

問7 ⑦裁判員制度の説明として正しいものを次のア)～エ)から1つ選び、記号で答えなさい。

- ア) 裁判員は、20歳以上の国民の中からくじで選ばれる。
- イ) 有罪とする場合、刑の内容は裁判官<sup>けい</sup>だけで決めることになっている。
- ウ) 裁判員が参加する裁判は、地方裁判所で行われる最初の裁判だけである。
- エ) 裁判員による裁判は、原則として公開されることはない。

### 3. 次の文章を読んで、以下の問いに答えなさい。

「何のために生まれて、何をして生きるのか」は、昨年（2025）9月まで放送していた、漫画家の故やなせたかし氏とその妻をモデルとしたNHK連続テレビ小説「あんぱん」の重要なテーマの一つです。

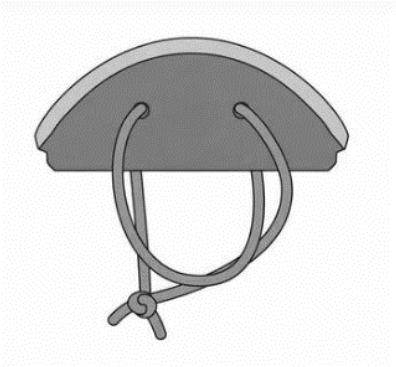
近年、戦争、自然災害など様々なニュースが流れてきます。そのようななかで、皆さんはどのように生きていくのでしょうか。日本の歴史も、先人たちが悩み、選択し、実行してきたことの連続で成り立っています。ここで少しふり返ってみたいと思います。

- 原始古代：木の上での生活を捨てて地上での生活を選択した人類は、気候や環境の変化に応じて、様々な道具を生み出し、①新たな生活スタイルを築いていきました。特に縄文時代半ば以降から弥生時代にかけての気候の寒冷化は、水稲耕作の拡大に大きく影響したと考えられています。
- 飛鳥時代：中国大陸に隋という強大な国ができました。そのようなときに、日本は豪族同士の争いが多発していたため、蘇我氏や厩戸王（聖徳太子）は、天皇を中心とする政治のしくみをととのえる必要性を感じていました。彼らは、天皇の政治を助けながら、②中国を参考にした改革を行っていきました。厩戸王の死後も、中国や朝鮮に学ぶ国づくりは継承され、7世紀末から8世紀初頭にかけて③中国の都をまねた都や法律がつくられました。
- 奈良時代：全国各地で災害や反乱がおこるなど社会全体に不安が広がっていたため、聖武天皇は④仏教の力で社会の不安をしずめて国を治めようとしました。
- 平安時代：貴族が政治を行っていましたが、武士が登場し、次第に存在感を増してくる時代でもありました。平清盛や源頼朝が有名ですが、特に源頼朝は、⑤東国武士たちの要求をつかんで勢力を伸ばしていき、鎌倉を拠点とする武士のための政治を行なう仕組みを成立させました。朝廷との対立・協調をくり返しながらも武士の政治は明治時代になるまで続きました。
- 明治時代：武士による政治が終わるきっかけの一つが、1853年のペリー来航です。江戸幕府はアメリカの圧力を前にどう対応すべきか悩みましたが、最終的に日米和親条約、日米修好通商条約を結び、以後外国と積極的に交易をする選択をしました。結果として、幕府は無くなり、薩摩藩や長州藩の人々を中心とする新政府に変わりましたが、日本という国は植民地になることなく残りました。ただし、弱い国は生き残れなかった時代でもあります。大久保利通、木戸孝允といった⑥明治新政府の人々は、どうすれば日本が生き残っていけるのかを懸命に考え、欧米の政治制度や軍事・産業技術を学び、様々な仕組みや制度をつくっていきました。
- 昭和時代：1920年代の終わりに、世界的な不景気の波が発生し、その影響は日本にも押し寄せました。不景気となった日本では、〔 ⑦ 〕を日本の領土にすれば、不景気からぬけ出せるのではないかと主張する者が出てきました。こうした、今よりも領土や資源があれば直面する問題を解決できるという考えが、アジア・太平洋戦争を招く一因になったと言えます。⑧2025年は終戦から80年という節目の年でした。過去の歴史を振り返るテレビ番組が数多く放送されました。これまで周囲で起きていることに少し目を向け、「何をして生きるのか」をじっくり考えてみてはいかがでしょうか。

問1 ①新たな生活スタイルについて、縄文時代の生活と関係のない道具を次のア)～エ)から1つ選び、記号で答えなさい。


ア) 石包丁

イ) 土器



ウ) 土偶

エ) 骨角器



問2 ②中国を参考にした改革について、まちがっているものを次のア)～エ)から1つ選び、記号で答えなさい。

ア) 冠位十二階を制定し、能力に関係なく家柄いせがらに応じて役人を取り立てた。

イ) 政治を行う役人の心構えを示すために、十七条の憲法を制定した。

ウ) 法隆寺などを建てて、仏教の教えを人々の間に広めようとした。

エ) 小野妹子たちを使者として送り、対等な国の交わりを結ぼうとしました。

問3 下線部③中国の都をまねた都について、奈良県飛鳥地方につくられた日本で最初の本格的な都を何といいますか、漢字で答えなさい。

問4 ④仏教の力で社会の不安をしずめて国を治めようとしましてについて、この一環としておこなわれた大仏づくりにたずさわった僧侶に行基がいます。《資料1》《資料2》をふまえて、行基に対する評価がどのように変化しているか、その理由として考えられることをふくめて1～2行で説明しなさい。

《資料1》歴史書『続日本紀』に見られる行基の記録

717年 最近、いやしい行基やその弟子たちが都のあちこちに集まり、たくさんの人に罪や仏の救済を説いている。集団になって仏のためだと指を焼いたりひじの皮をはいたり、家々をたずねてはいい加減なことを説き、強引に食べ物以外の物をねだり、これが正しい仏の道だと言いながら、人びとをまどわせる。…布教を禁止せよと天皇はいった。

731年 行基を信じている人のなかで、ルールを守って修行する者で、男性なら61才以上、女性なら55才以上に限り、僧や尼になることを認めると天皇はいった。

743年 天皇は大仏をつくるために土地を準備した。行基は弟子を連れて多くの人びとから寄付を集めた。

745年 天皇が行基を僧の最高の位である大僧正に任命した。

749年 大僧正の行基和尚が亡くなられた。和尚は薬師寺の僧であった。(中略)行基は都や地方を旅して多くの人びとを教え導いた。僧になった者もなっていない者も、皆行基の教えや人柄を慕い、ついていく人の数は千人にも及んだ……和尚は不思議なことをたくさん起こした。そのため、当時の人びとは彼を行基菩薩と呼んでとても尊敬した。

《資料2》行基が741年までに行った事業

種類	数	所在
池	15	大阪・兵庫
溝	6	大阪・兵庫
堀	4	大阪・兵庫
樋※1	3	大阪
道	1	大阪・兵庫
橋	6	京都・兵庫
港	2	大阪
布施屋※2	9	京都・大阪・兵庫

※1 読み：ひ…ため池などから水を流す管

※2 読み：ふせや…税を納める民衆のための宿泊施設

出典：国土交通省 HP コラム「行基による公共事業」より作成

問5 ⑤東国武士たちの要求は、先祖からの領地を守ることや、新たな領地をもらうことでした。このような要求にこたえてあげることで、武士たちは戦いが起こったときに頼朝のために命がけで戦いました。こうした頼朝と武士たちの関係を何と何の関係といいますか、解答らんに合うかたちで答えなさい。

問6 ⑥明治新政府の人々は、どうすれば日本が生き残っていけるのかを懸命に考え、欧米の政治制度や軍事・産業技術を学び、様々な仕組みや制度をつくっていきましたに関連して、明治・大正時代には政府の要人以外にも様々な人がそれぞれの信念に基づき行動しました。人物とその行動に関する説明としてふさわしいものを次のア)～エ)から1つ選び、記号で答えなさい。

- ア) 与謝野晶子は、日露戦争中に従軍した弟を応えんする歌を詠み、戦争に協力する立場を示した。
- イ) 北里柴三郎は、農民や漁民とともに足尾銅山の鉱毒問題に取り組んだ。
- ウ) 平塚らいてうは、女性の自由と権利の拡大をめざす運動を行った。
- エ) 田中正造は、当時命を落とす人の多かった破傷風の治療方法を発見した。

問7 空らん [ ⑦ ] および、下の「資料3」「資料4」の空らん  に共通してあてはまる地名を漢字2字で答えなさい。

「資料3」



「資料4」



問8 ⑧2025年は終戦から80年という節目の年でしたに関連して、これまで、戦後50年、60年、70年の節目の年に当時の日本の首相が「談話」を発表してきました。今回の80年の節目には、「所感」という形で首相のコメントが発表されました。「資料5」の「所感」を発表した首相の氏名を答えなさい。

「資料5」 「所感」のおもな内容



なぜあの戦争に我が国は突っ込んでいったのか。私たちはもう一度歴史に謙虚に学び、日本の平和は尊い犠牲の上にある、そのことに思いをいたしたい

出典：「朝日新聞」2025年3月27日より

画像出典：首相官邸HPより