

# 共立女子第二中学校

平成29年度

## 入学試験問題 (2回 AM)

### 【 社 会 】

試験時間 理科と合計で60分

### 【 注 意 】

- 1 試験開始の合図があるまで、中を見てはいけません。
- 2 問題は1～3で、全部で7ページです。試験中に汚れや不足しているページに気づいた場合は、手をあげて監督かんとくの先生を呼んでください。
- 3 解答はすべて解答用紙にはっきりと記入し、解答用紙だけを提出してください。

1. 次の文章を読んで、以下の問いに答えなさい。

①民主主義のもとでは、②政治が私たちの身近なものでなければなりません。そして、民主主義を守っていくために、なくてはならないしくみが、自分たちを代表して政治をになう人々を選ぶ③選挙です。選挙権を持つ人が広がるほど、民主主義のレベルは高くなると言えるでしょう。

日本の国の議会は、④大日本帝国憲法の時代には〔 ⑤ 〕と衆議院での2つで構成されて帝国議会と呼ばれ、現在の⑥日本国憲法のもとでは、⑦衆議院と参議院の2つで構成されて国会と呼ばれています。国会が、2つの議院で構成されている理由のひとつは慎重な話し合いができるからですが、2つの議院の議決や意思が異なった時は、多くの場合、〔 ⑧ 〕の議決が優越することになっています。

問1 ①民主主義の考え方としてまちがっているものを、次のア)～エ)の中から1つ選び、記号で答えなさい。

- ア) 民主主義は、国民が政治の主役となる「国民主権」の考え方に立つ。
- イ) 民主主義では、全員一致でものごとを決めるため、少数の意見を尊重してはいけない。
- ウ) 民主主義の下では、自分の意見や考えを自由に述べる「表現の自由」がある。
- エ) 民主主義の下では平等が重要なので、自分の権利と同様に他人の権利も認めなければならない。

問2 ②政治について、昨年(2016年)の政治の動きについて述べた次のア～エ)の文の中で、まちがっているものを1つ選び、記号で答えなさい。

- ア) 特定の人種や民族への差別をあおり立てる行為の解消をめざす「ヘイトスピーチ対策法」が成立した。
- イ) オバマ前大統領が、現職のアメリカ大統領として初めて被爆地の広島を訪問した。
- ウ) 小池百合子元防衛大臣が、女性初の東京都知事になった。
- エ) ロシアのプーチン大統領が日本を訪問し、両国間の平和条約を結ぶことで合意した。

問3 ③選挙について、日本の選挙権を持つ人の広がり（衆議院）をあらわした下の表について説明した次のア)～エ)の文の中で、正しいものを1つ選び、記号で答えなさい。

<表> 日本の選挙権を持つ人の広がり（衆議院）

決まった年	国に納めた直接税の額	年齢	性別
1889年	15円以上	25歳以上	男性
1900年	10円以上	25歳以上	男性
1918年	3円以上	25歳以上	男性
1925年	制限なし	25歳以上	男性
1945年	制限なし	20歳以上	男女
2015年	制限なし	18歳以上	男女

注) 国に納める直接税の額は、所得が多い人ほど大きい。

- ア) 選挙権は、まず男性から女性に広がり、ついで所得の制限がなくなった。
- イ) 所得の多少が、選挙権の有無の条件ではなくなったのは1945年以降である。
- ウ) 第二次世界大戦前から、女性に選挙権があった。
- エ) 選挙権において、男女の平等が実現したのは1945年である。

問4 ④大日本帝国憲法を制定した中心人物で、日本の初代の内閣総理大臣にもなった人物は誰ですか、答えなさい。

問5 [ ⑤ ] にあてはまる語句を答えなさい。

問6 ⑥日本国憲法に定められた政治のしくみについて、正しいものを次のア)～エ)の中から1つ選び、記号で答えなさい。

- ア) 日本国憲法の3原則は、国民主権、基本的人権の尊重、平和主義である。
- イ) 日本国憲法のもと、国の政治権力は立法権・行政権・自衛権に分かれている。
- ウ) 日本国憲法では、内閣を組織している政党のことを野党という。
- エ) 日本国憲法の改正は、衆参両院の総議員の2分の1以上の賛成があれば発議できる。

問7 ⑦衆議院と参議院について、次のア)～エ)の各文を、衆議院と参議院の説明に2つずつ分けなさい。

- ア) 議員の任期が4年で解散がある。
- イ) 国の予算を先に<sup>しんぎ</sup>審議する。
- ウ) 被選挙権は30歳以上である。
- エ) 3年ごとに選挙が行われる。

問8 [ ⑧ ] にあてはまる語句を答えなさい。

2. 次の文章を読んで、以下の問いに答えなさい。

東日本大震災という大きな災害から5年目となった昨年(2016年)も日本の各地で自然災害が発生しました。日本列島には多くの①火山があり、②大地震もしばしば起こります。また、夏には台風や③集中豪雨、冬には④豪雪による被害にしばしば見舞われます。自然災害に対する備えは一人ひとりが防災意識をもつことからはじまります。そのためにも⑤日本の国土を知ることが大切です。また、自国のことだけでなく⑥国境をこえた様々な問題にも目を向けていくことも求められます。

問1 ①火山について、(1)・(2)の問いに答えなさい。

(1) 火山について述べたものとして正しいものを次のア)～エ)から1つ選び、記号で答えなさい。

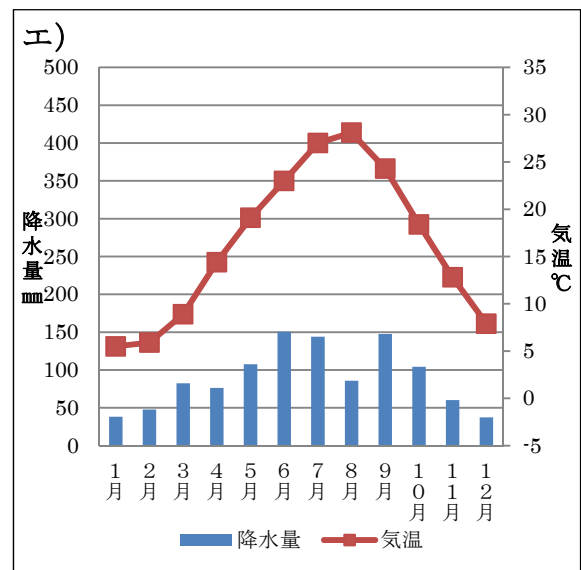
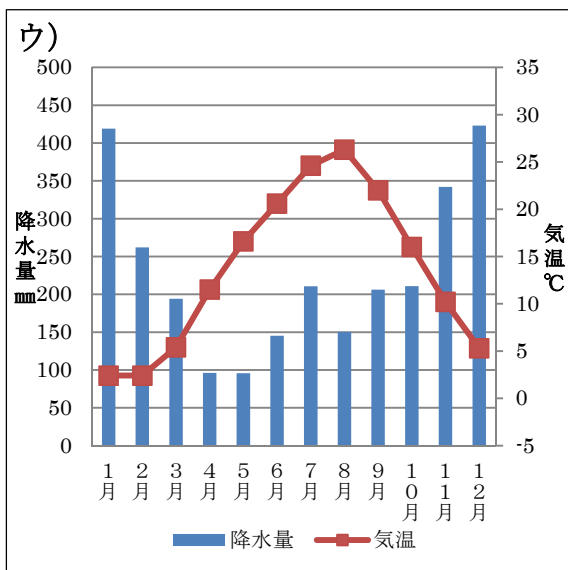
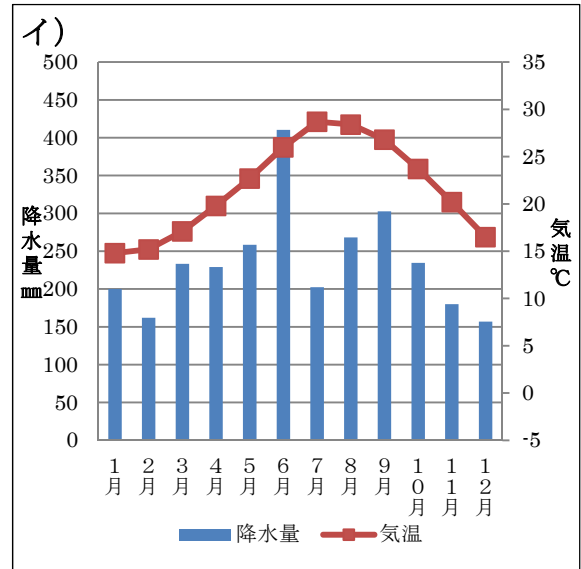
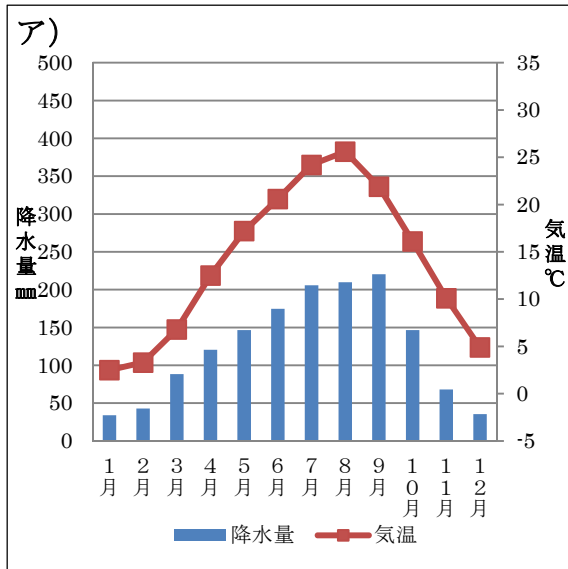
- ア) 火山の地中から取り出した蒸気や熱水を利用した地熱発電は、再生可能エネルギーの中で発電量が最も多い。
- イ) 富士山などの火山灰が積もってできた関東ロームにおおわれた武蔵野台地は、江戸時代に用水がひかれて新田開発が進められた。
- ウ) 阿蘇山周辺には石灰岩が浸食されてできたカルスト地形がみられ、地下には多くの鍾乳洞がある。
- エ) 中禅寺湖は、箱根火山の火口に水がたまってできたカルデラ湖である。

(2) 火山灰が降り積もってできた台地の農作物のうち、牧ノ原台地(静岡県)と笠野原台地(鹿児島県)で共通して栽培されているものを答えなさい。この農作物は、静岡県と鹿児島県で、全国の約7割(「農林水産省統計データ 平成27年度」)が生産されています。

問2 ②大地震について、これまでの大地震の発生帯となっている「南海トラフ」の位置を、5ページの日本地図の[ア]～[エ]から1つ選び、記号で答えなさい。

問3 ③集中豪雨について、集中豪雨は梅雨の末期に多く発生し、山くずれや洪水の被害を起こします。地方自治体では自然災害の被害範囲を予測した「○○○○マップ」と呼ばれる地図を作成しています。「○○○○」にあてはまる語をカタカナで答えなさい。

問4 ④豪雪<sup>ごうせつ</sup>について、豪雪地帯の雨温図として正しいものを次のア)～エ)から1つ選び、記号で答えなさい。



(「理科年表」平成28年第89冊より作成)

問5 ⑤日本の国土について、(1)・(2)の問いに答えなさい。

(1) 日本の国土について述べたものとしてまちがっているものを次のア)～エ)から1つ選び、記号で答えなさい。

ア) 沿岸から200カイリまでの排他的経済水域は、国土面積の11倍以上ある。

イ) 大阪平野は淀川によって形成された平野である。

ウ) 北方領土はロシアが、竹島は中国が、尖閣諸島は韓国が、それぞれ領有権を主張している。

エ) 宍道湖・浜名湖は淡水と海水が混じり合った湖である。

(2) 盆地の周辺部にできた傾斜地では果樹栽培が盛んです。盆地と果樹栽培の組み合わせとしてまちがっているものを次のア)～エ)から1つ選び、記号で答えなさい。

ア) 甲府盆地 — ぶどう

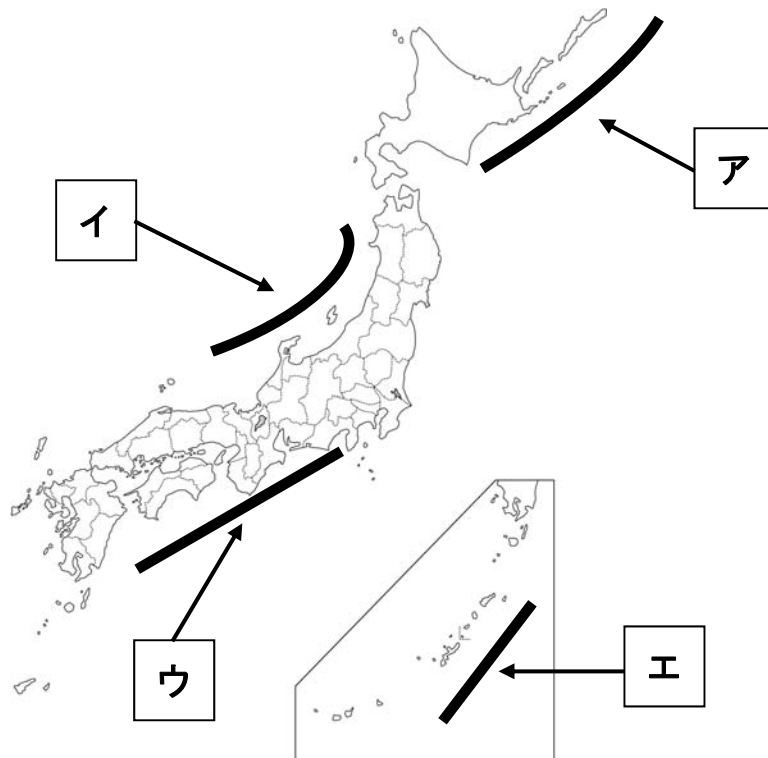
イ) 長野盆地 — りんご

ウ) 山形盆地 — さくらんぼ

エ) 福島盆地 — みかん

問6 ⑥国境をこえた様々な問題について、国際連合は「持続可能な世界」の実現を目指して地球サミットを3回開きました。そのうち、2回は2016年にオリンピックが開かれた都市が会場になりましたが、この都市の名前は何ですか。解答欄にあてはまるように答えなさい。

日本地図



3. 次の文章を読んで、以下の問いに答えなさい。

日本人の宗教の原点は、“様々な自然物に宿る精霊をおそれ敬う気持ち(アニミズム)”から始まっていると言われます。縄文時代に使用された①魔除けや繁栄を祈るための人形や、古墳時代に作られた勾玉などは、まじないを大切にしていた当時の日本人の精神性を伝えるものです。

日本の歴史を古代から眺めてみますと、アニミズムと並行して、外国から伝えられた宗教からも多大な影響を受けてきたことが分かります。中国で成立した②儒教は5世紀ころに、インドで成立した③仏教は6世紀ころに、ともに渡来人によって日本に伝えられました。仏教においては、④奈良時代に天皇が仏教の力を借りて国を治めようとしたり、⑤平安時代には唐に留学した僧が新しい仏教の教えをもたらしたりしました。しかし、それまでの仏教は天皇や貴族などが信仰するものであって、民衆に広く信仰されるようになったのは⑥鎌倉時代からでした。人々の不安な気持ちを取り除くために大きな役割を果たしてきた仏教ですが、室町時代になると、領主である守護大名への反抗として、⑦仏教信者たちによる一揆なども起きています。さて、この室町時代には、これまでのアジア的な宗教とは違うヨーロッパの宗教である⑧キリスト教が伝わりました。16世紀末の日本には約15万人ものキリシタンが存在し、キリシタン大名によって4人の少年がローマ教皇のもとに派遣されたこともありました。やがて江戸時代になると、身分制度に基づく統治を考えた江戸幕府によって、上下関係を重視する⑨儒学(朱子学)が採用され、幕府の学問にまでなりました。儒学というのは、儒教の教えを学問にしたものです。

こうしてみると、古来より様々な宗教という文化を受け入れてきた日本人の精神性は、東洋と西洋の様々な文化を、バランスよく取り入れることができる現代日本人の精神性につながっているのかも知れません。

問1 ①魔除けや繁栄を祈るための人形を何といいますか、答えなさい。

問2 ②儒教について、紀元前6世紀にこの教えを説いた人物は誰ですか、答えなさい。

問3 ③仏教について、6世紀の日本にこの宗教を公式に伝えた朝鮮半島の国家を、次のア)～エ)から1つ選び、記号で答えなさい。

ア) 高句麗      イ) 新羅      ウ) 百濟      エ) 伽耶諸国(加羅)

問4 ④奈良時代について、この時代に各地で橋や道路をつくりながら仏教を説き歩き、東大寺の大仏づくりにも参加した僧は誰ですか、答えなさい。

問5 ⑤平安時代の仏教について、次の各文の下線部の内容がまちがっているものを次のア)～エ) から1つ選び、記号で答えなさい。

- ア) 唐から帰国した空海は、現在の和歌山県の高野山に金剛峯寺を建てた。
- イ) 浄土信仰は、10世紀中ごろから空也が都で説き歩き、庶民の間に広まった。
- ウ) 最澄は、のちにその功績をたたえられて、弘法大師と呼ばれた。
- エ) 宇治にある平等院鳳凰堂は、藤原頼通が開いた阿弥陀堂である。

問6 ⑥鎌倉時代に成立した仏教とその開祖について、次の各文の下線部の内容が正しいものを次のア)～エ) から1つ選び、記号で答えなさい。

- ア) 浄土宗を開いた一遍は、「南無阿弥陀仏」と唱えれば極楽に行けると説いた。
- イ) 曹洞宗を開いた道元は、坐禅によって悟りを得ることを重視した。
- ウ) 時宗を開いた親鸞は、諸国を歩き回って踊り念仏を広めた。
- エ) 浄土真宗を開いた栄西は、悪人こそ救われる道があると説いた。

問7 ⑦仏教信者たちによる一揆について、現在の石川県に住んでいた浄土真宗の信者が中心となって、守護大名を滅ぼした一揆を何といいますか。解答欄にあてはまるように答えなさい。

問8 ⑧キリスト教について、次の文(1)・(2)の内容正誤の組み合わせとして正しいものを次のア)～エ) から1つ選び、記号で答えなさい。

- |   |
|---|
| (1)織田信長は、全国統一の妨げになるとして、キリスト教の布教を禁止した。       |
| (2)江戸幕府は島原・天草一揆の後にキリシタンへの弾圧をゆるめ、キリスト教を保護した。 |

- |              |              |
|--------------|--------------|
| ア) (1)正 (2)正 | イ) (1)正 (2)誤 |
| ウ) (1)誤 (2)正 | エ) (1)誤 (2)誤 |

問9 ⑨儒学(朱子学)について、徳川家の6代と7代の将軍に仕えた儒学者で、「正徳の治」と呼ばれる政治を行なった人物は誰ですか、答えなさい。